

MATEMATIKA 3: Trajanje 120 minuta. Zabranjen je razgovor sa drugim studentima. Na klupama je dozvoljen samo pisaći pribor, tablica osnovnih integrala, tablica Laplaceovih transformacija, kalkulator, indeks ili iksica i prazni papiri koji nose ime studenta. Sav ostali pribor, formule, uređaji, bilješke i nepotpisane prazne papire zabranjeno je koristiti i trebaju ostati u torbi ili pohranjeni kod nastavnika (elektronički uređaji trebaju biti isključeni) tokom cijelog trajanja ispita. Studenti koji primijete zabranjene predmete dužni su ih prijaviti nastavniku. Nije dozvoljeno međusobno posuđivanje pribora tijekom trajanja ispita. Povreda ovih pravila može za posledicu imati udaljavanje s ispita. ZADATKE RIJEŠAVATE JEDNOSTRANO NA PAPIRE KOJE DOBIJETE OD NASTAVNIKA.

M3

60

IME I PREZIME: DANIEL UHODA

BROJ INDEKSA: 54639

1. Izračunati dvostruki integral

$$\iint_S e^{x+y} dx dy, \quad 20$$

gdje je S trokut s vrhovima $A(0,1)$, $B(1,0)$, $C(1,1)$.

2. Izračunati površinu lika omeđenog parabolama $(y+1)^2 = 2x+5$, $y^2 - \frac{y}{2} = -x+3$. 20

3. Izračunati volumen tijela omeđenog plohama: $z = x^2 + y^2$, $z = 2$. 20

4. Neka je točkama $A(1,0)$, $B(1,4)$, $C(-2,2)$, $D(-2,0)$ dan četverokut $ABCD$ i neka je C njegova kontura prijeđena u pozitivnom smislu (suprotno od kazaljke na satu). Primjenom Greenove formule izračunati integral

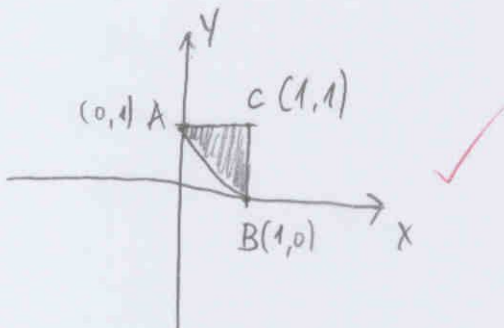
$$\oint_C 2(x+y^2)dx + (x+y)^2 dy$$

5. Koristeći Laplaceovu transformaciju riješiti diferencijalnu jednačbu:

$$2f'''(t) + 2f''(t) = 0, \quad f(0) = f''(0) = 2, \quad f'(0) = 0.$$

1. $\iint_S e^{x+y} dx dy$

$\overline{AB} \dots y-1 = \frac{-1}{1} (x-0)$
 $y-1 = -x$
 $y = -x+1$



$$\int_0^1 \int_{1-y}^1 e^{x+y} dx dy = \int_0^1 (e^{x+y}) \Big|_{x=1-y}^1 dy$$

$$= \int_0^1 (e^{y+1} - e^1) dy$$

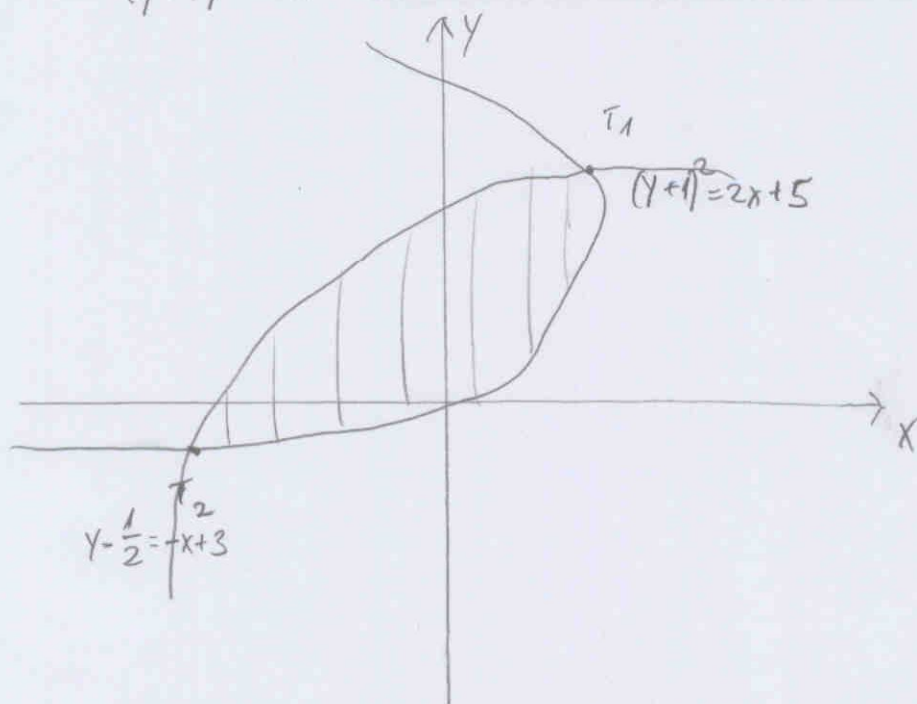
$$= (e^{y+1} - ey) \Big|_0^1 = e^2 - e - e$$

$$= e^2 - 2e // \checkmark$$

20

$$(y+1)^2 = 2x + 5$$

2.



$$y^2 - \frac{y}{2} = -x + 3$$

$$\left(y + \frac{1}{2}\right)^2 - \frac{1}{4} = -x + 3$$

TOČKE SJEČANIŠTA:

$$(y+1)^2 - 5 = -2y^2 + y + 6$$

$$y^2 + 2y + 1 - 5 = -2y^2 + y + 6$$

$$3y^2 + y - 10 = 0$$

$$y_{1,2} = \frac{-1 \pm \sqrt{1+120}}{6} = \frac{-1 \pm 11}{6}$$

$$T_1 = y_1 = -2$$

$$x_1 = -2$$

$$T_2 = y_2 = \frac{5}{3}$$

$$x_2 = \frac{13}{18}$$

IME I PREZIME:

DANTEL UHOĐA

BROJ INDEKSA: 54639

$$P = \int_{-2}^{\frac{5}{3}} \left(\frac{13}{9} - \left(2 - \frac{1}{2}\right)^2 - \frac{1}{2} (y+1)^2 + \frac{5}{2} \right) dy$$

$$= \int_{-2}^{\frac{5}{3}} \left(\frac{163}{9} - y^2 + y - \frac{1}{4} - \frac{1}{2} y^2 - y - \frac{1}{2} \right) dy$$

$$= \int_{-2}^{\frac{5}{3}} \left(-\frac{3}{2} y^2 + 5 \right) dy = \left(-\frac{1}{2} y^3 + 5y \right) \Big|_{-2}^{\frac{5}{3}}$$

$$\int_{-2}^{\frac{5}{3}} -y^2 + \frac{5}{2} + 3$$

$$P = \int \int dx dy$$

$$-2 \frac{(y+1)^2}{2} - \frac{5}{2}$$

$$= -\frac{1}{2} \cdot \frac{125}{27} + \frac{15}{3} - (7 - 10) = \frac{125 + 450}{54} + 6$$

$$= \frac{125}{54} + \frac{524}{54} = \frac{649}{54} // \checkmark$$

20

3. $z = x^2 + y^2$ $z = 2$, $V = ?$

$$z = r^2 \cos^2 \varphi + r^2 \sin^2 \varphi$$

$$z = r^2$$

$$x = r \cos \varphi$$

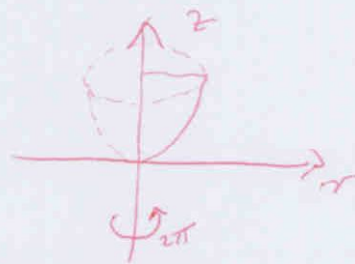
$$y = r \sin \varphi$$

$$z = 2$$

$$V = \int_0^{2\pi} d\varphi \int_0^{\sqrt{2}} r dr \cdot \int_{r^2}^2 dz$$

$$V = 2\pi \cdot \int_0^{\sqrt{2}} r (2 - r^2) dr = 2\pi \cdot \left(r^2 - \frac{r^3}{3} \right) \Big|_0^{\sqrt{2}}$$

$$V = 2\pi \cdot \left(2 - \frac{2\sqrt{2}}{3} \right) = 2 \cdot \pi \cdot \frac{6 - 2\sqrt{2}}{3} // \checkmark$$



20